



ΔΗΜΟΤΙΚΟ ΣΧΟΛΕΙΟ

Όνομα: _____ Τάξη: _____

Επανάληψη: Τριψήφιοι Αριθμοί

1. Να γράψεις τους πιο κάτω αριθμούς με αριθμητικά σύμβολα:

Διακόσια τριάντα πέντε:

Τετρακόσια πενήντα:

Εκατό εξήντα επτά:

Εξακόσια πέντε:

Εννιακόσια ενενήντα πέντε:

Διακόσια:

Εξακόσια έξι:

Διακόσια ένα:

2. Γράψε τον επόμενο αριθμό:

353	→	<input type="text"/>
199	→	<input type="text"/>
640	→	<input type="text"/>
458	→	<input type="text"/>

639	→	<input type="text"/>
500	→	<input type="text"/>
324	→	<input type="text"/>
789	→	<input type="text"/>



3. Γράψε τον προηγούμενο αριθμό:

→ 263

→ 399

→ 100

→ 240

→ 524

→ 156

4. Βάλε στη σειρά τους πιο κάτω αριθμούς ξεκινώντας από τον πιο μικρό.

458	429	116
299	501	570

.....

.....

5. Να συμπληρώσεις χρησιμοποιώντας τα σύμβολα < ή >.

345 195

475 476

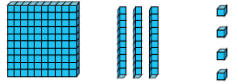

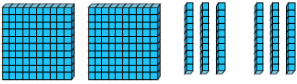
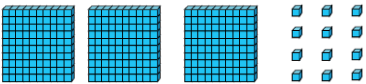
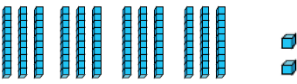
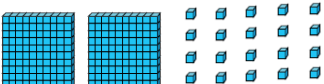
109 190

288 377

271 207

438 839

6. Γράψε τον αριθμό που αναπαριστούν οι κύβοι Dienes και στη συνέχεια ανάλυσε τους σε εκατοντάδες, δεκάδες και μονάδες.

	1 Ε	3 Δ	4 Μ	$100 + 30 + 4 = 134$
	Ε	Δ	Μ
	Ε	Δ	Μ
	Ε	Δ	Μ
	Ε	Δ	Μ
	Ε	Δ	Μ

7. Να αναπαραστήσεις τους αριθμούς που γράφει στο κάθε κουτάκι με 2 διαφορετικούς τρόπους.

135		
215		
309		

8. Με τα ψηφία 0, 2, 4, 6, 9 σχημάτισε πέντε τριψήφιους αριθμούς που να είναι μικρότεροι του 500

--

9. Να συμπληρώσεις τα μοτίβα



220, 230, 240, 250,
124, 134, 144, 154,
453, 454, 455, 456,
325, 330, 335, 340,

Καλό διάβασμα και καλή επιτυχία!!