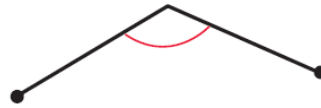

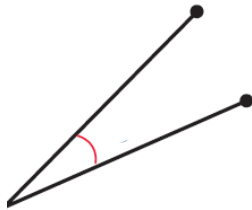


Όνομα: Ημερ.....

1) Ονόμασε τις πιο κάτω γωνιές με βάση το μέγεθός τους.
(οξεία, αμβλεία, ορθή)



.....

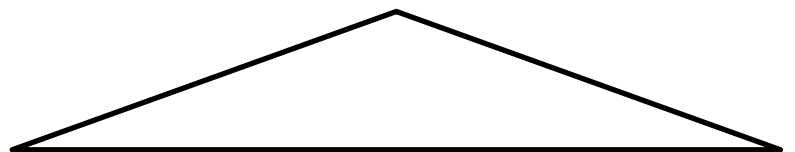
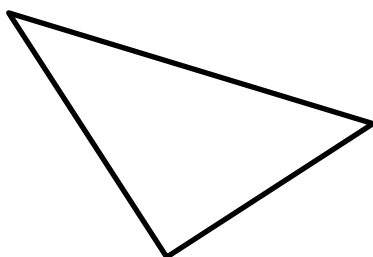
.....

.....

2) Κατασκεύασε μια ορθή, μια οξεία και μια αμβλεία γωνιά.

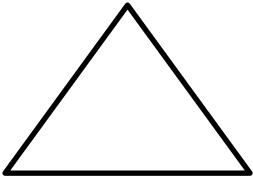


3) Δώσε όνομα στις γωνίες, βάζοντας ✓ στη στήλη που ανήκουν.

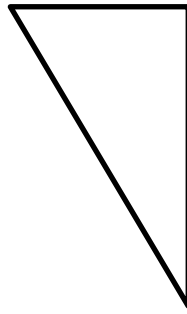


	ΟΡΘΗ ΓΩΝΙΑ	ΟΞΕΙΑ ΓΩΝΙΑ	ΑΜΒΛΕΙΑ ΓΩΝΙΑ
α			
β			
γ			
δ			
ε			
στ			

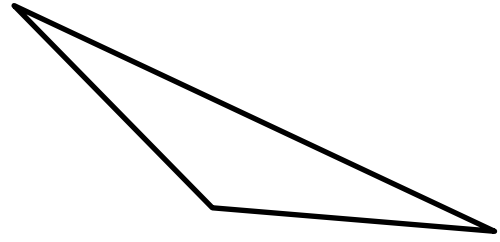
4) Γράψε, με βάση το μέγεθος των γωνιών τους, την ονομασία κάθε τριγώνου.



.....

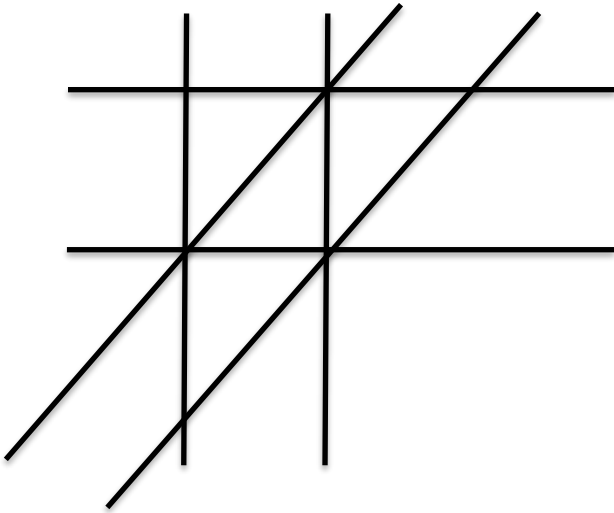


.....



.....

5) Χρωμάτισε με το ίδιο χρώμα τα ζευγάρια των παράλληλων γραμμών



7) Βάλε ✓ κάτω από τα σχήματα που είναι παραλληλόγραμμα

