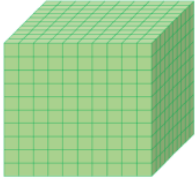



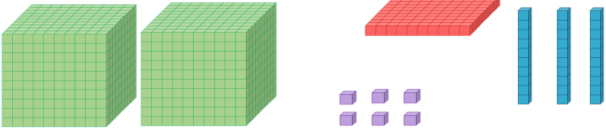
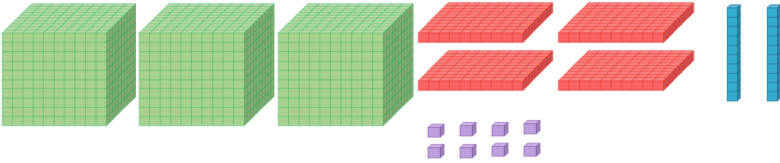

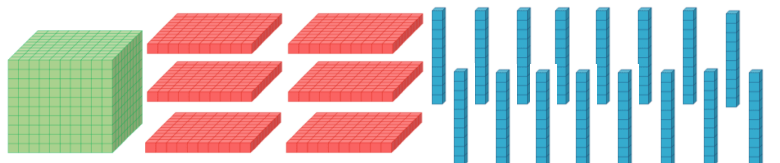
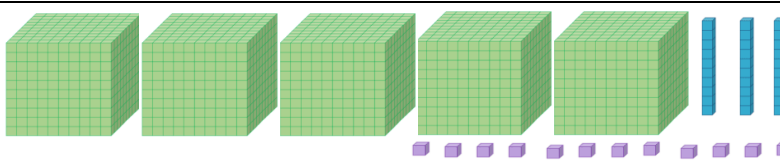


Μαθηματικά Γ΄ τάξης


Όνοματεπώνυμο: _____ Ημερομηνία: _____ Τάξη: _____

Χιλιάδες	Εκατοντάδες	Δεκάδες	Μονάδες
			
1000	100	10	1

1. Γράψε τον αριθμό που δείχνουν οι κύβοι dienes, όπως το παράδειγμα:

	$2Χ + 1Ε + 3Δ + 6Μ$ $2000 + 100 + 30 + 6 = 2136$
	_____
	_____
	_____
	_____

2. Σχεδιάσε τον αριθμό, όπως το παράδειγμα:

3456: 

1578: _____

2082: _____

4. Γράψε την αξία του ψηφίου που είναι υπογραμμισμένο κάθε φορά:

3967 6789 9808 3457 3763 2345 3436

5. Γράψε τον προηγούμενο και τον επόμενο αριθμό:

_____ ← 4000 → _____ _____ ← 4550 → _____

_____ ← 2999 → _____ _____ ← 2399 → _____

_____ ← 8300 → _____ _____ ← 3809 → _____

6. Γράψε τον αριθμό που είναι κατά 300 μεγαλύτερος:

3367 → _____ , 2645 → _____

8554 → _____ , 8067 → _____

7004 → _____ , 9234 → _____

7. Γράψε τον αριθμό που είναι κατά 30 μεγαλύτερος:

3367 → _____ , 2645 → _____

8554 → _____ , 8067 → _____

7004 → _____ , 9234 → _____

8. Γράψε τον αριθμό που δείχνουν τα αριθμητήρια:

