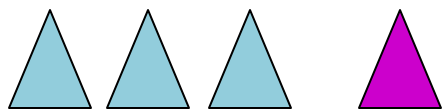
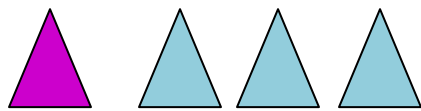


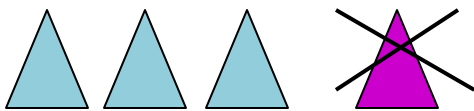
- Αριθμοί:  $\textcircled{3}$   $\textcircled{1}$   $\textcircled{4}$



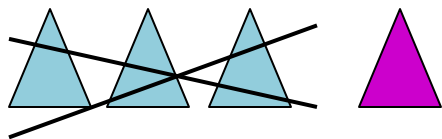
$$3 + 1 = 4$$



$$1 + 3 = 4$$



$$4 - 1 = 3$$



$$4 - 3 = 1$$

Φτιάχνω 4 μαθηματικές προτάσεις

Έχω τους  
αριθμούς:



Μαθηματικές  
προτάσεις:

$$3 + 1 = 4$$

$$1 + 3 = 4$$

$$4 - 1 = 3$$

$$4 - 3 = 1$$

Ο 'μεγάλος'  
είναι στο τέλος.

Ξεκινώ από τον  
'μεγάλο'.

- Κάνε τις σελίδες 80 και 81 από το βιβλίο Μαθηματικών.  
Ακολουθήσε τα παραδείγματα.



2 Να γράψεις 4 μαθηματικές προτάσεις για κάθε εικόνα, όπως στο παράδειγμα.



$$4 + 1 = 5$$

$$1 + 4 = 5$$



$$5 - 1 = 4$$

$$5 - 4 = 1$$




---



---




---



---






---





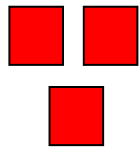

---





3. Να γράψεις 4 μαθηματικές προτάσεις για κάθε εικόνα, όπως στο παράδειγμα.

<b>7</b> όλα	
	
<input type="text" value="4"/> + <input type="text" value="3"/> = <input type="text" value="7"/>	
<input type="text" value="3"/> + <input type="text" value="4"/> = <input type="text" value="7"/>	
<input type="text" value="7"/> - <input type="text" value="4"/> = <input type="text" value="3"/>	
<input type="text" value="7"/> - <input type="text" value="3"/> = <input type="text" value="4"/>	

<b>6</b> όλα	
	
<input type="text"/> + <input type="text"/> = <input type="text"/>	
<input type="text"/> + <input type="text"/> = <input type="text"/>	
<input type="text"/> - <input type="text"/> = <input type="text"/>	
<input type="text"/> - <input type="text"/> = <input type="text"/>	

<b>5</b> όλα	
	
<input type="text"/> + <input type="text"/> = <input type="text"/>	
<input type="text"/> + <input type="text"/> = <input type="text"/>	
<input type="text"/> - <input type="text"/> = <input type="text"/>	
<input type="text"/> - <input type="text"/> = <input type="text"/>	

<b>4</b> όλα	
	
<input type="text"/> + <input type="text"/> = <input type="text"/>	
<input type="text"/> + <input type="text"/> = <input type="text"/>	
<input type="text"/> - <input type="text"/> = <input type="text"/>	
<input type="text"/> - <input type="text"/> = <input type="text"/>	