



Οικογένεια πράξεων Πρόσθεση - Αφαίρεση

3

2







5

3

Έχω 3 ροζ και 2 κίτρινα
λουλούδια. Πόσα είναι
όλα;

2




$$3 + 2 =$$

5


Ο 'μεγάλος' είναι
στο τέλος.

2



Βάζω πρώτα τα
κίτρινα και μετά τα
ροζ. Η απάντηση
είναι η ίδια.

3








$$2 + 3 = 5$$

3

Μαράθηκαν τα ροζ.
Πόσα έμειναν;

2







Ξεκινώ από τον
'μεγάλο'.

$$5 - 3 = 2$$

3

Μαράθηκαν τα
κίτρινα.
Πόσα έμειναν;

2




Ξεκινώ από τον
'μεγάλο'.

$$5 - 2 = 3$$

Ας δούμε τώρα και τις 4 μαθηματικές προτάσεις που φτιάξαμε:

Είχαμε τους αριθμούς:



Μαθηματικές προτάσεις:

$$3 + 2 = 5$$

$$2 + 3 = 5$$

$$5 - 3 = 2$$

$$5 - 2 = 3$$

Ο 'μεγάλος' είναι
στο τέλος.





Ξεκινώ από τον
'μεγάλο'.

Γράψε στο τετράδιό σου τις μαθηματικές προτάσεις για τους πιο κάτω αριθμούς. Θα σε βοηθήσουν οι εικόνες.

3

1





4



4

2

6







Κάνε τη σελίδα 79 στο βιβλίο Μαθηματικών.



ΔΡΑΣΤΗΡΙΟΤΗΤΕΣ



1 Να γράψεις μαθηματικές προτάσεις σύμφωνα με τις εικόνες.

	$\underline{\hspace{2cm}} = 7$
	$\underline{\hspace{2cm}} = 7$
	$\underline{\hspace{2cm}} = 4$
	$\underline{\hspace{2cm}} = 3$

Φιγαράκι, μπορείς να γράψεις μαθηματικές προτάσεις για τους πιο κάτω αριθμούς, χωρίς εικόνα;

5

1

6

$$\underline{\quad} + \underline{\quad} = \underline{\quad} \qquad \underline{\quad} - \underline{\quad} = \underline{\quad}$$

$$\underline{\quad} + \underline{\quad} = \underline{\quad} \qquad \underline{\quad} - \underline{\quad} = \underline{\quad}$$