

Φιγαράκι μου, μπορείς να βρεις
όλα τα ζευγαράκια μου;

Μπορείς να χρησιμοποιήσεις καλαμάκια, ζυγάκια, μπαγίτσες ή κύβους 2 διαφορετικών χρωμάτων (π.χ. κόκκινα και κίτρινα καλαμάκια).





Συμπλήρωσε τη σελίδα 94, ακορυνθώντας το παράδειγμα.



Ο Ηλίας έχει 10 καραμέλες. Μερικές είναι κόκκινες και μερικές είναι κίτρινες.



Πόσες κόκκινες και πόσες κίτρινες καραμέλες μπορεί να έχει ο Ηλίας; Να βρεις όλες τις περιπτώσεις.

Κόκκινες καραμέλες 	Κίτρινες καραμέλες 	Σύνολο
		10
		10
		10
		10
		10
		10
		10
		10
		10
		10
		10



➤ Γράψε όλα τα ζευγαράκια του 10 στο τετράδιό σου.

$$\square + \square = 10$$

$$\square + \square = 10$$

$$\square + \square = 10$$

$$\square + \square = 10$$

$$\square + \square = 10$$

$$\square + \square = 10$$

$$\square + \square = 10$$

$$\square + \square = 10$$

$$\square + \square = 10$$

$$\square + \square = 10$$

$$\square + \square = 10$$